



# הכנה מתקדמת לכיתה א' חלק 2

## הרחבת השפה והידע

### תוך שעשוע ומשחק

(אין צורך להדפיס בצבע)



הקיפו בעגול את החפצים שתקחו אתכם בתרמיל לטיול





מתחו קו בין החפץ לבין הקבוצה אליו הוא שייך:



צְעוּעִים

רְהִיטִים



כְּלֵי תַחְבוּרָה




כְּלֵי כְּתִיבָה



מוֹצְרֵי חֲשָׁמַל

בְּעֵלֵי חַיִּים



כְּלֵי נְגִינָה



למי אני שיך?  
מתחו קו בין הציורים לבין הקבוצה אליה שיך כל אחד.



פירות



ירקות



עצים



פרחים



למי אני שִׁיךָ?  
מתחו קו בין הציורים לְבֵין הַקְּבוּצָה (או קבוצות) אליה שִׁיךְ כָּל אֶחָד.



טוֹרְפִים



צְמָחוּנִיִּים



יוֹנְקִים



זוֹחְלִים

חֶרְקִים



יש רק מספר אחד מתוך הארבעה, מהו?



הקיפו את המספר הנמצא בין 42 ל-50

59                      47                      35                      53

הקיפו את המספרים הנמצאים בין 12 ל-20

15    17    11    26    22    25    18    12

יש רק מספר אחד פזה מתוך הארבעה, מהו?



הקיפו את המספר הגדול מ-10 וגם גדול מ-20

10                      9                      24                      11

הקיפו את המספרים הקטנים מ-15 וגם קטנים מ-13

12    15    16    31    10    25    8

יש רק מספר אחד פזה מתוך הארבעה, מהו?



הקיפו את המספר הקטן מ-20 וגם גדול מ-16



10                      9                      24                      11

הקיפו את המספרים הקטנים מ-30 וגם גדולים מ-20

8                      10                      25  
31  
9                      28                      16  
12

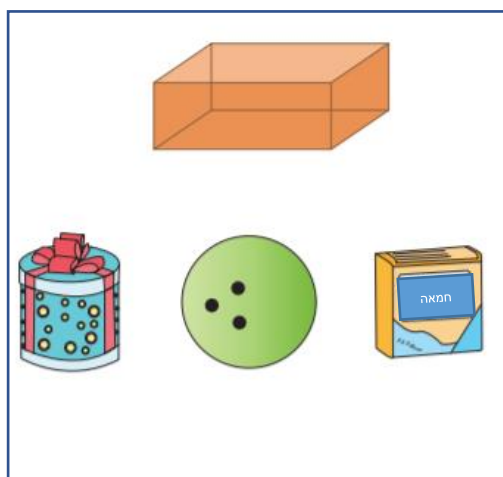
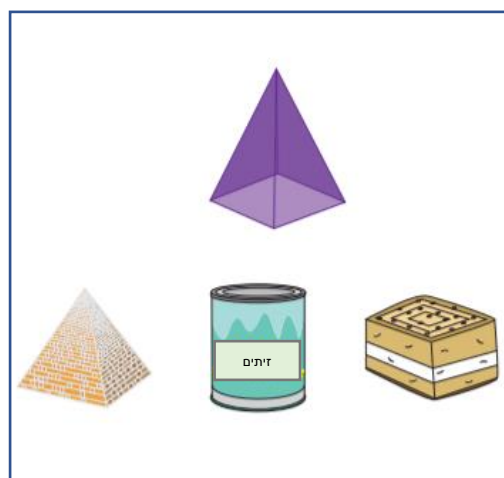




## מצאו לפחות 6 הבדלים בין התמונות





סמנו מי מהשלושה דומה לצורה שלמעלה.








נעה ואבנר הם תאומים האוהבים בחפש לעשות דברים יחד.  
אתמול הם בלוי יחד שעות רבות:









- בשעה 9:00 בבקר הם קמו.
- בשעה 11:00 שחקו בכדור-נוצה.
- בשעה 2:00 בצהרים קפצו בטרמפולינה.
- בשעה 5:00 אחרי הצהרים צפו בטלוויזיה.

התאימו בין השעונים לבין הפעילות של נעה ואבנר לפי השעה המתאימה.





הוסיפו לטבלה דינוזאורים כך ששכל שורה ובכל טור  
לא יופיע אותו דינוזאור פעמים (אפשר לגזור את  
הדינוזאורים מהחלק התחתון)





מתחן קו בין הצורה לבין שמה.

רמז: מספר הצלעות רומז על שם הצורה

מתחן קו בין הצורה לבין מספר הצלעות (צדדים) שלה.

משלש




5

עגול




6

מששה




4

רבועי



3


מחמש



0



עזרו ליואב להגיע לבית של עדי החוגגת יום הולדת.  
בדרך עליו לאסוף את כל הפריטים שבמבוך, בלי לחזור  
על עקבותיו.





בכל שורה סמנו את יוצא הדופן.  
נסו להסביר את הבחירה שלכם.





בְּחֶרּוּ אֶת הַתְּרִגִּיל שְׂתוֹצְאָתוֹ הֵיא 10

$7 + 2$

$5 + 6$

$4 + 3$

$8 + 2$

בְּחֶרּוּ אֶת הַתְּרִגִּיל שְׂתוֹצְאָתוֹ הֵיא 9

$7 + 3$

$5 + 4$

$4 + 6$

$8 + 0$

בְּחֶרּוּ אֶת הַתְּרִגִּיל שְׂתוֹצְאָתוֹ הֵיא 8

$7 + 2$

$0 + 7$

$2 + 6$

$8 + 1$

בְּחֶרּוּ אֶת הַתְּרִגִּיל שְׂתוֹצְאָתוֹ הֵיא 7

$10 + 1$

$9 - 2$

$6 + 3$

$10 - 1$