



דפי עבודה וחיזוק החומר לתלמידי כיתה ב' חלק ראשון

חשבון

(אין צורך להדפיס בצבע)



סדרו את המספרים בסדר עולה

14	6	34	57	11	28	2	44

סדרו את המספרים בסדר יורד

30	45	70	15	90	75	60	55

מצאו את המספרים החסרים (הם מדלגים בכל פעם אותו דלוג)

2	4			10			16
---	---	--	--	----	--	--	----

5	10				30		40
---	----	--	--	--	----	--	----

3	6			15			24
---	---	--	--	----	--	--	----

10	20				60		80
----	----	--	--	--	----	--	----



פתרו את התרגילים

0	1	2	3	4	5	6	7	8	9	10	11	12	13	14	15	16	17	18	19	20
---	---	---	---	---	---	---	---	---	---	----	----	----	----	----	----	----	----	----	----	----

- | | |
|----------------------|-----------------------|
| 1) $13 - 2 =$ _____ | 13) $19 - 6 =$ _____ |
| 2) $15 - 4 =$ _____ | 14) $17 - 4 =$ _____ |
| 3) $12 - 10 =$ _____ | 15) $16 - 2 =$ _____ |
| 4) $14 - 3 =$ _____ | 16) $18 - 4 =$ _____ |
| 5) $15 - 5 =$ _____ | 17) $15 - 7 =$ _____ |
| 6) $16 - 7 =$ _____ | 18) $8 - 5 =$ _____ |
| 7) $19 - 2 =$ _____ | 19) $18 - 5 =$ _____ |
| 8) $20 - 3 =$ _____ | 20) $19 - 13 =$ _____ |
| 9) $15 - 4 =$ _____ | 21) $17 - 9 =$ _____ |
| 10) $12 - 9 =$ _____ | 22) $18 - 7 =$ _____ |
| 11) $10 - 7 =$ _____ | 23) $17 - 5 =$ _____ |
| 12) $16 - 4 =$ _____ | 24) $14 - 8 =$ _____ |



בְּכָל שׁוּרָה הַקִּיפוּ אֶת הַמְסָפֵר אוֹ הַתּוֹצֵאָה הַגְּבוֹהִים
בְּיֹתֵר (אֶת הַכִּי גְדוֹל)

$50+10$	72	$100-60$	36
---------	----	----------	----

42	$25+5$	$10+10$	19
----	--------	---------	----

100	$90-80$	$50+40$	51
-----	---------	---------	----

$52+2$	60	$70-10$	69
--------	----	---------	----

34	$80-5$	$75-25$	44
----	--------	---------	----



פְּרְקוּ אֶת הַמְסָפְרִים לְעֶשְׂרוֹת וְיְחִידוֹת

	עשרות	יחידות
28	2	8
12		
66		
92		
89		
32		
17		
20		
52		
61		
76		
92		
45		
91		
85		
54		
36		


	עשרות	יחידות
98		
28		
22		
64		
94		
12		
79		
25		
70		
50		
15		
59		
38		
76		
72		
66		
15		





סמנו את השעה הנכונה מבין השלוש שמיימין, בהתאם למה שמורים מחוגי השעון.


1.  3:15
12:15
12:45


2.  1:15
2:45
2:15


3.  2:45
9:15
3:15


4.  3:45
7:15
7:45

5.  5:45
9:45
6:15

6.  11:45
9:45
12:15

7.  3:45
10:15
10:45

8.  3:15
6:15
3:45

9.  4:45
5:15
5:45

10.  3:45
9:15
3:15



פתרו את התרגילים

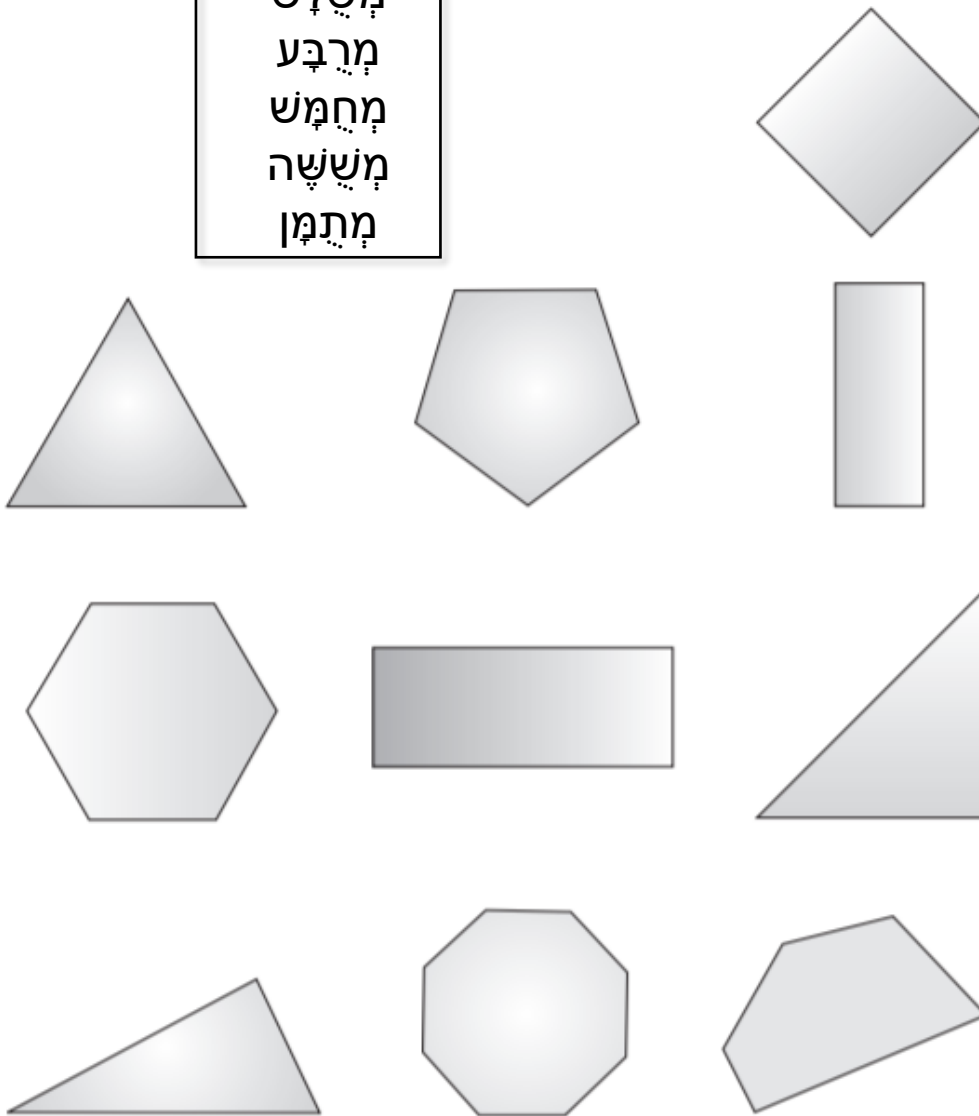
0	1	2	3	4	5	6	7	8	9	10	11	12	13	14	15	16	17	18	19	20
---	---	---	---	---	---	---	---	---	---	----	----	----	----	----	----	----	----	----	----	----

- | | | | |
|-----------------|-------|-----------------|-------|
| 1) $13 - 8 =$ | _____ | 16) $14 - 8 =$ | _____ |
| 2) $12 - 6 =$ | _____ | 17) $16 - 10 =$ | _____ |
| 3) $10 - 7 =$ | _____ | 18) $15 - 6 =$ | _____ |
| 4) $15 - 4 =$ | _____ | 19) $19 - 4 =$ | _____ |
| 5) $17 - 3 =$ | _____ | 20) $17 - 6 =$ | _____ |
| 6) $9 - 7 =$ | _____ | 21) $13 - 10 =$ | _____ |
| 7) $13 - 11 =$ | _____ | 22) $20 - 8 =$ | _____ |
| 8) $15 - 5 =$ | _____ | 23) $19 - 7 =$ | _____ |
| 9) $10 - 6 =$ | _____ | 24) $16 - 14 =$ | _____ |
| 10) $12 - 10 =$ | _____ | 25) $18 - 15 =$ | _____ |
| 11) $11 - 9 =$ | _____ | 26) $20 - 10 =$ | _____ |
| 12) $15 - 3 =$ | _____ | 27) $15 - 7 =$ | _____ |
| 13) $13 - 3 =$ | _____ | 28) $13 - 5 =$ | _____ |
| 14) $11 - 5 =$ | _____ | 29) $19 - 8 =$ | _____ |
| 15) $14 - 2 =$ | _____ | 30) $20 - 13 =$ | _____ |



כְּתֹבוּ בְּתוֹךְ כָּל צוּרָה אֶת שְׁמָהּ. תּוֹכְלוּ לְהַעֲזֵר בְּתַבַּת הַשְּׁמוֹת

מְשַׁלֵּשׁ
מְרַבֵּעַ
מְחַמֵּשׁ
מְשַׁשֵּׁה
מְתַמֵּן





חברו את שלשת המספרים ומצאו את התוצאה

4	3	6	9	4	3
5	8	1	5	3	2
+ 2	+ 7	+ 3	+ 3	+ 5	+ 4
<hr/>	<hr/>	<hr/>	<hr/>	<hr/>	<hr/>

6	2	8
7	9	9
+ 2	+ 5	+ 1
<hr/>	<hr/>	<hr/>

7	1	2
5	1	2
+ 1	+ 3	+ 4
<hr/>	<hr/>	<hr/>




נסו לקבוע, בלי לספור, האם יש כאן מספר זוגי או אי-זוגי של פריטים



זוגי / אי-זוגי



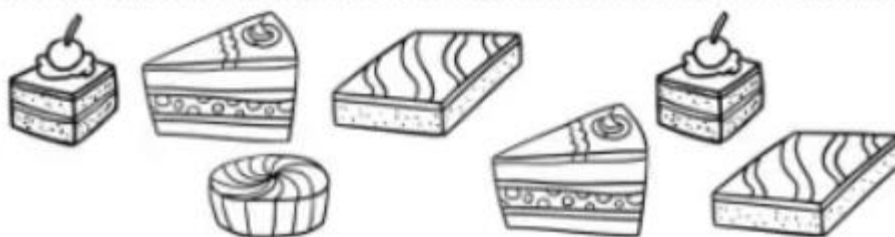
זוגי / אי-זוגי



זוגי / אי-זוגי



זוגי / אי-זוגי



זוגי / אי-זוגי



פתרו את התרגילים

1) $13 - 1 =$ _____

2) $14 - 3 =$ _____

3) $7 - 6 =$ _____

4) $11 - 1 =$ _____

5) $12 - 4 =$ _____

6) $18 - 1 =$ _____

7) $5 - 5 =$ _____

8) $12 - 2 =$ _____

9) $15 - 3 =$ _____

10) $13 - 4 =$ _____

11) $10 - 8 =$ _____

12) $9 - 7 =$ _____

13) $16 - 4 =$ _____

14) $19 - 2 =$ _____

15) $13 - 7 =$ _____

16) $15 - 6 =$ _____

17) $9 - 7 =$ _____

18) $16 - 5 =$ _____

19) $8 - 7 =$ _____

20) $12 - 5 =$ _____

21) $18 - 6 =$ _____

22) $19 - 4 =$ _____

23) $20 - 3 =$ _____

24) $18 - 17 =$ _____

25) $16 - 8 =$ _____

26) $19 - 9 =$ _____

27) $20 - 7 =$ _____

28) $16 - 16 =$ _____

29) $18 - 15 =$ _____

30) $20 - 6 =$ _____

31) $19 - 17 =$ _____

32) $17 - 4 =$ _____

33) $18 - 9 =$ _____

34) $20 - 8 =$ _____

35) $17 - 11 =$ _____

36) $17 - 7 =$ _____

37) $12 - 9 =$ _____

38) $16 - 10 =$ _____

39) $19 - 13 =$ _____

40) $20 - 9 =$ _____



צִירוּ אֶת הַמְּחֻגָּים עַל הַשָּׁעוֹן כְּךָ שִׁיִּתְאִימוּ לַשָּׁעָה הַרְשׁוּמָה מִתַּחַת

1 2 3 4 5

14:00 22:00 20:00 18:30 21:30

6 7 8 9 10

00:30 02:00 08:30 01:30 06:30

11 12 13 14 15

23:00 13:00 11:30 16:00 20:30



מצאו את המספר החסר בכל תרגיל

0	1	2	3	4	5	6	7	8	9	10	11	12	13	14	15	16	17	18	19	20
---	---	---	---	---	---	---	---	---	---	----	----	----	----	----	----	----	----	----	----	----

1) $15 - \underline{\quad} = 13$

13) $11 - \underline{\quad} = 4$

2) $11 - \underline{\quad} = 7$

14) $\underline{\quad} - 3 = 10$

3) $10 - \underline{\quad} = 5$

15) $\underline{\quad} - 5 = 2$

4) $16 - \underline{\quad} = 13$

16) $18 - 11 = \underline{\quad}$

5) $20 - \underline{\quad} = 19$

17) $15 - \underline{\quad} = 10$

6) $\underline{\quad} - 1 = 10$

18) $12 - \underline{\quad} = 6$

7) $\underline{\quad} - 1 = 13$

19) $\underline{\quad} - 3 = 14$

8) $\underline{\quad} - 2 = 8$

20) $\underline{\quad} - 10 = 2$

9) $\underline{\quad} - 2 = 12$

21) $19 - \underline{\quad} = 17$

10) $\underline{\quad} - 3 = 11$

22) $17 - \underline{\quad} = 9$

11) $14 - \underline{\quad} = 10$

23) $\underline{\quad} - 2 = 15$

12) $17 - \underline{\quad} = 14$

24) $\underline{\quad} - 10 = 4$



מצאו את המספר החסר בכל תרגיל



1. $4 + 5 + \square = 20$

2. $5 + 2 + \square = 20$

3. $6 + 6 + \square = 20$

4. $7 + 5 + \square = 20$

5. $8 + 6 + \square = 20$












6. $9 + 4 + \square = 20$

7. $7 + 6 + \square = 20$

8. $4 + 9 + \square = 20$



כְּתֹבוּ אֶת שֵׁם הַצּוֹרָה הַתּוֹלֵת מְמֵדִית (תּוֹכְלוּ לְבַחַר מִבֵּין
הַשְּׁמוֹת הַנִּמְצָאִים בְּתֵבַת הַשְּׁמוֹת)

קבֵּיה תְּבֵה גְּלִיל חֲרוֹט פִּרְמִידָה כְּדוֹר	 _____	 _____
 _____	 _____	 _____
 _____	 _____	 _____
 _____	 _____	 _____



מצאו את המספר החסר בכל תרגיל

0	1	2	3	4	5	6	7	8	9	10	11	12	13	14	15	16	17	18	19	20
---	---	---	---	---	---	---	---	---	---	----	----	----	----	----	----	----	----	----	----	----

- | | |
|-----------------------------------|-----------------------------------|
| 1) $13 - \underline{\quad} = 6$ | 16) $18 - \underline{\quad} = 9$ |
| 2) $\underline{\quad} - 4 = 14$ | 17) $\underline{\quad} - 5 = 15$ |
| 3) $17 - 10 = \underline{\quad}$ | 18) $\underline{\quad} - 3 = 13$ |
| 4) $\underline{\quad} - 3 = 6$ | 19) $20 - 16 = \underline{\quad}$ |
| 5) $12 - \underline{\quad} = 7$ | 20) $18 - \underline{\quad} = 11$ |
| 6) $19 - \underline{\quad} = 13$ | 21) $13 - \underline{\quad} = 4$ |
| 7) $\underline{\quad} - 7 = 10$ | 22) $\underline{\quad} - 6 = 13$ |
| 8) $18 - 16 = \underline{\quad}$ | 23) $\underline{\quad} - 11 = 4$ |
| 9) $17 - \underline{\quad} = 7$ | 24) $19 - \underline{\quad} = 14$ |
| 10) $20 - \underline{\quad} = 11$ | 25) $20 - \underline{\quad} = 3$ |
| 11) $15 - \underline{\quad} = 4$ | 26) $\underline{\quad} - 4 = 9$ |
| 12) $\underline{\quad} - 2 = 7$ | 27) $\underline{\quad} - 2 = 17$ |
| 13) $17 - 6 = \underline{\quad}$ | 28) $16 - \underline{\quad} = 10$ |
| 14) $\underline{\quad} - 3 = 10$ | 29) $17 - 9 = \underline{\quad}$ |
| 15) $14 - \underline{\quad} = 11$ | 30) $13 - \underline{\quad} = 5$ |



צרו תרגיל חשבון מהשאלה וענו.

דגמה:

1. בספארי גרים ששה קרנפים ושבע קרנפות. כמה קרנפים בספארי בסך הכל?

$$\underline{6} + \underline{7} = \underline{13}$$

2. בשוק היונים מתגודדות שבע יונים בוגרות וחמש יונים צעירות. כמה יונים בשוק בסך הכל?

$$\underline{\quad\quad} + \underline{\quad\quad} = \underline{\quad\quad}$$

3. בתצוגה של אוסטרליה אפשר לראות שמונה קנגורו נקבות, לארבע מהן יש קנגורו תינוק בפיס. כמה קנגורואים יש בתצוגה בסך הכל?

$$\underline{\quad\quad} + \underline{\quad\quad} = \underline{\quad\quad}$$

4. בגן החיות יש שמונה פילים אסייתיים וחמשה פילים אפריקאים. כמה פילים בגן החיות בסך הכל?

$$\underline{\quad\quad} + \underline{\quad\quad} = \underline{\quad\quad}$$



מצאו את המספר החסר בכל תרגיל

1) $12 - \underline{\quad} = 7$

2) $\underline{\quad} - 2 = 14$

3) $17 - 11 = \underline{\quad}$

4) $13 - \underline{\quad} = 9$

5) $14 - \underline{\quad} = 6$

6) $\underline{\quad} - 10 = 5$

7) $16 - 12 = \underline{\quad}$

8) $\underline{\quad} - 3 = 11$

9) $17 - 4 = \underline{\quad}$

10) $20 - 6 = \underline{\quad}$

11) $14 - \underline{\quad} = 2$

12) $\underline{\quad} - 5 = 7$

13) $\underline{\quad} - 7 = 5$

14) $18 - \underline{\quad} = 10$

15) $15 - \underline{\quad} = 6$

16) $19 - \underline{\quad} = 11$

17) $16 - 7 = \underline{\quad}$

18) $\underline{\quad} - 12 = 6$

19) $\underline{\quad} - 3 = 14$

20) $15 - \underline{\quad} = 9$

21) $19 - 8 = \underline{\quad}$

22) $\underline{\quad} - 12 = 8$

23) $\underline{\quad} - 4 = 13$

24) $17 - \underline{\quad} = 6$

25) $18 - 14 = \underline{\quad}$

26) $20 - 17 = \underline{\quad}$

27) $18 - \underline{\quad} = 2$

28) $\underline{\quad} - 7 = 12$

29) $20 - 11 = \underline{\quad}$

30) $13 - \underline{\quad} = 5$



צרו תרגיל חשבון מהשאלה וענו.

1. בביתן הקופים יש שבע גורילות ותשע שימפנזות. כמה קופים בביתן בסך הכל?

$$\underline{\hspace{2cm}} + \underline{\hspace{2cm}} = \underline{\hspace{2cm}}$$

2. בשנה שעברה ארכו של נחש האנקונדה בתצוגת הזוחלים היה שמונה מטר. השנה הוא התארך בעוד שלושה מטרים. מה ארכו של נחש האנקונדה השנה?

$$\underline{\hspace{2cm}} + \underline{\hspace{2cm}} = \underline{\hspace{2cm}}$$

3. בתצוגת הקטב יש שלושה פינגווינים ושבעה כלבי ים. כמה חיות בתצוגת הקטב?

$$\underline{\hspace{2cm}} + \underline{\hspace{2cm}} = \underline{\hspace{2cm}}$$

4. הדולפינים אוכלים דגים מתוך ששה דליים מידי יום. בכמה דליים יש להאכיל אותם ביומים?

$$\underline{\hspace{2cm}} + \underline{\hspace{2cm}} = \underline{\hspace{2cm}}$$