



הכנה לכיתה א' בנושא הכרת השעון חלק ראשון



החוברת המומלצת ביותר
לקריאת שעון כהכנה לכיתה א',
להדפסה עצמאית

בדרגת קושי עולה

(אין צורך להדפיס בצבע)



ילדים יקרים
אני הוא צב השעה.
צבים הם אלופים בזמנים ובקריאת שעון.
זה דבר ידוע.
ולכן בחרו בי ללמד אתכם
איך קוראים את השעה משעון.
אני אסביר ואתם תנסו לפצח את החידות
בחוברת הזאת.
אם עדיין קשה לכם, לא נורא: יש פתרונות
בסוף, ואפשר להיעזר במישהו שמבין,
אבל נסו קודם להתמודד לבד.
הכי כיף להצליח לבד.



או, אני שומע
את השעון
מצלצל, בואו
נתחיל!





ספרות
דיגיטאליות
נראות כמו
רגילות, אבל
הן עשויות
מקווים



1	2	3	4	5	6	7	8	9	10	11	12	ספרות רגילות
1	2	3	4	5	6	7	8	9	10	11	12	ספרות דיגיטאליות

זה שעון
דיגיטאלי.
השעה כאן היא
שמונה (8).



השעה הדקות

לפעמים השעה
תופיע גם כך:
עם אפס לפנייה



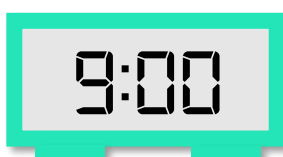


זיהוי השעה בשעון דיגיטאלי

איזה מהשעונים מראה את השעה שלוש?



איזה מהשעונים מראה את השעה חמש?



איזה מהשעונים מראה את השעה שמונה?



איזה מהשעונים מראה את השעה שתיים?



איזה מהשעונים מראה את השעה ארבע?



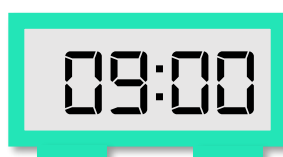


זיהוי השעה בשעון דיגיטאלי

איזה מהשעונים מראה את השעה תשע?



איזה מהשעונים מראה את השעה שש?



איזה מהשעונים מראה את השעה עשר?



איזה מהשעונים מראה את השעה שתיים-עשרה?



איזה מהשעונים מראה את השעה שתיים-עשרה?





בחרו איזו שעה מראה השעון?



שמונה

שתיים

חמש



תשע

שש

שמונה



שש

שמונה

תשע



אחת עשרה

עשר

אחת



בחרו איזו שעה מראה השעון?



שתיים עשרה

שתיים

עשרים



אפס

שתיים

שתיים עשרה



אחת

עשר


אחת עשרה



עשר

אחת עשרה

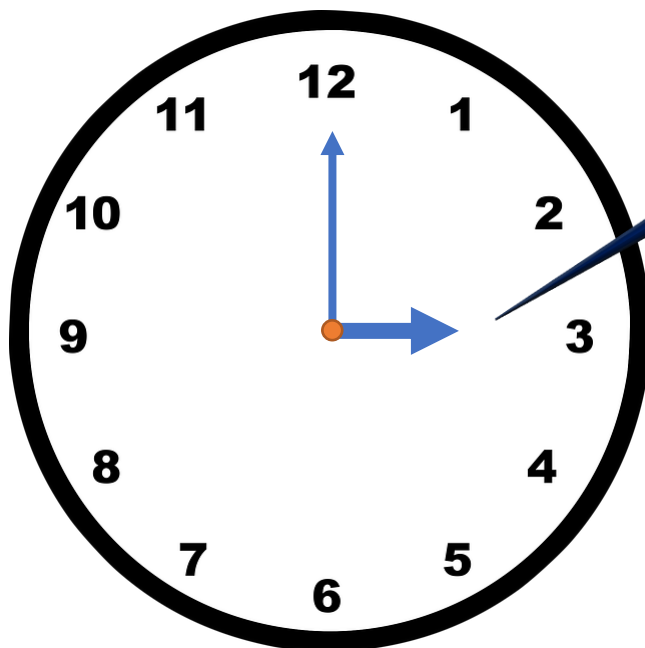
אחת



זהו שעון אנאלוגי
(שעון מחוגים) יש לו
שני מחוגים (לפעמים
שלושה). המחוג הקצר
יותר (והעבה יותר)
מצביע על השעה.



השעה בשעון הזה
היא: 3 - עקבו אחר
המחוג הקצר ותראו
שהוא מצביע על 3.





בחרו איזה שעה מראה השעון?



11:00

1:00


12:00



1:00

12:00

7:00




9:00

6:00

10:00



בחרו איזה שעה מראה השעון?



שתים-עשרה

אחת-עשרה


אחת



שתים

אחת

שתים-עשרה



אחת



שתים-עשרה

שש





שעון מחוגים


איזה מהשעונים מראה את השעה שלוש?



איזה מהשעונים מראה את השעה שמונה?





איזה מהשעונים מראה את השעה ארבע?







שעון מחוגים

איזה מהשעונים מראה את השעה עשר?



איזה מהשעונים מראה את השעה שש?



איזה מהשעונים מראה את השעה שתים עשרה?

