



הכנה לכיתה א' בנושא הכרת השעון חלק שני



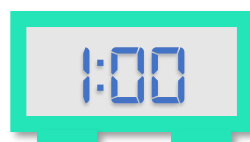
החוברת המומלצת ביותר
לקריאת שעון כהכנה לכיתה א',
להדפסה עצמאית

בדרגת קושי עולה

(אין צורך להדפיס בצבע)



בחרו והקיפו את השעון שלמטה (מהשעונים הדיגיטליים)
המראה את אותה שעה שמראה השעון הגדול (האנלוגי)





בחרו והקיפו את השעון שלמטה (מהשעונים הדיגיטליים)
המראה את אותה שעה שמראה השעון הגדול (האנלוגי)






כתבו את השעה שמורה השעון



:00



3:00

דוגמה:



:00



:00



:00



:00



כתבו את השעה שמורה השעון



:00




:00




:00



:00



:00



:00



**ביום אחד יש 24 שעות:
הגחוג הקטן עושה שני
סיבובים שלמים במהלך
היום.**

**כל שעה מופיעה פעמיים במהלך היום.
השעה 05:00 לאשל, מופיעה פעמיים
ביום: בבוקר ובלילה.**



לילה



ערב

אחרי
הצהריים



צהריים

בוקר





הקיפו את השעה שבה סביר יותר שמתרחש האירוע המתואר בסיפור.

אמא חוזרת מהעבודה כל יום אחרי הצהריים, בערך בשעה:

5:00

8:00

10:00

הגנן הגיע ממש מוקדם בבוקר לטפל בגינה. ראיתי אותו
מהחלון בשעה:

2:00

11:00

6:00

מעיין קוראת ספר, והשמש בחוץ כמעט שוקעת. השעה
היא:

3:00

6:00

9:00

אני והחברים קבענו להיפגש לשחק יחד היום בצהריים מייד
אחרי בית ספר, בשעה:

3:00

6:00

9:00

תום הלך לבקר את סבתא הבוקר, שעון הקיר במטבח של
סבתא מראה:

10:00

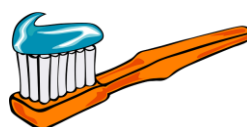
4:00

1:00



הקיפו את השעה שבה סביר יותר שמתרחש האירוע המתואר בסיפור.

יונתן מצחצח שיניים כל ערב לפני שהוא הולך לישון.



אמא יוצאת לריצת בוקר כל שבת.



עדי יצא לרכיבת אופניים עם החברים אחרי הצהריים.



נחמיה מוציא את פלאפי הכלב לטיול ערב.






הקיפו את השעה שבה סביר יותר שמתרחש האירוע המתואר בסיפור.

כל המשפחה אוכלת יחד ארוחת צהרים אחרי הלימודים.



סבא וסבתא יושבים לצפות בחדשות היום בטלוויזיה כל ערב.



בימי שלישי סיוון מביטה בטלסקופ על הירח.



לרועי יש חוג כדורגל בימי שני בשבוע, בשעה...





הדקות בשעון

בכל שעה יש 60 דקות.
בשעון דיגיטאלי אפשר
לראות את השעה משמאל
ואת הדקות מימין.

בכל השעונים
שפה השעה
שמונה, אבל
הדקות משתנות:

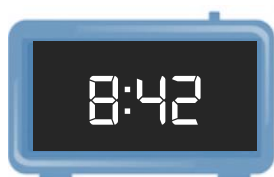




כתבו מתחת לשעון מה השעה המראה כל שעון



השעה היא: 10 : 30 דקות.



השעה היא: _____ : _____ דקות.




השעה היא: _____ : _____ דקות.



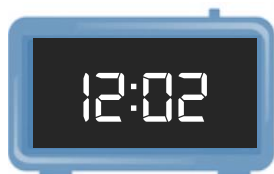
השעה היא: _____ : _____ דקות.



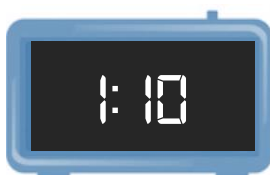
כתבו מתחת לשעון מה השעה המראה כל שעון



השעה היא: _____ ו _____ דקות.



השעה היא: _____ ו _____ דקות.



השעה היא: _____ ו _____ דקות.



השעה היא: _____ ו _____ דקות.