



שעשועי חשיבה בנושאי חג החנוכה ועונת החורף

לתלמידי כיתה א'
חלק ראשון



כולל פתרונות
(לא מוכרחים להדפיס בצבע)



מָצְאוּ 10 הַבְּדָלִים:



הקיפו: מה שלא שייך לחנוכה




מָצָאוּ שְׁתֵּי סֶפְגָּנוֹת זְהוֹת לְגַמְרִי





תוכלו למצא 5 הבדלים בין התמונות?





מהי הצללית המתאימה לכל מטרייה?






הפינג'וין משמאל צריך להגיע לחברו שממין, אך עליו לדרך רק על הקרחונים שהתוצאה שלהם 5. עזרו לו למצא את דרכו.

Math problems in the maze:

- 3+1, 8-5, 3+3, 1+4, 6-2, 3+2, 7-2, 2+2, 8-3, 1+3, 2+3, 2+1, 4+1, 6-1, 7-4, 6-3, 1+4, 7-3, 2+2, 2+3, 1+2, 8-3, 3+2, 7-2, 5-2

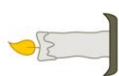


מהו החלק החסר בציור?





כמה נרות יש אצל סוג - תוכלו
לספור אבלי להתבלבל?






עֲזְרוּ לְגֹזֵלֵשׁ לְהִגִּיעַ לְקוֹ הַסִּיּוּם






התאימו את הצעיפים לכובעים לפי
הדגמאות שעליהם:






התוכלו לספר כמה פובעים יש מכל סוג מבלי להתבלבל?





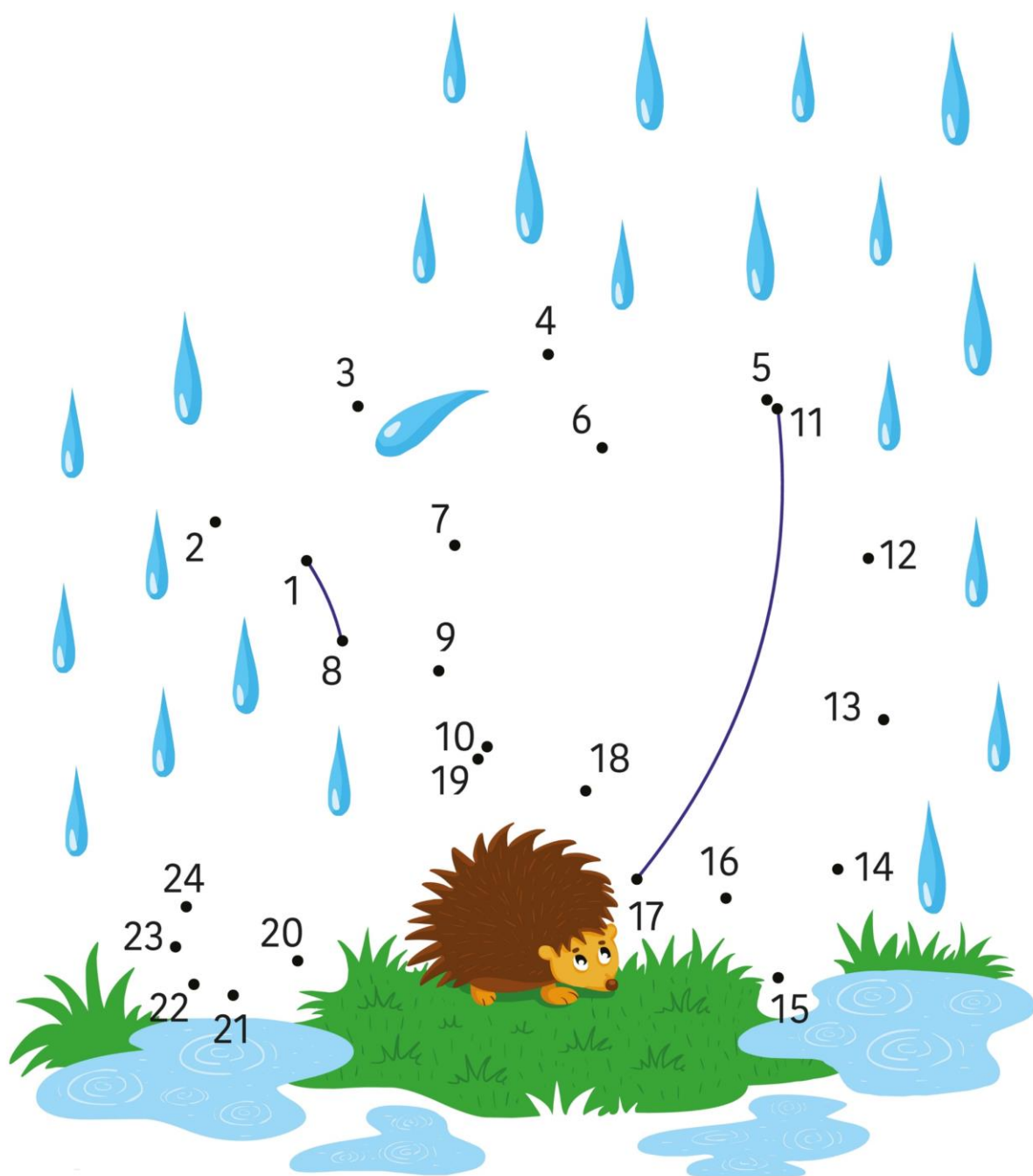
צבעו לפי המספרים:



- | | | | | |
|---|---|------|---|-----------|
| 1 | 1 | קחל | 5 | ורד/אפרסק |
| 2 | 2 | תכלת | 6 | אדום |
| 3 | 3 | צהב | 7 | חום/בורדו |
| 4 | 4 | כתום | | |



חברו את הנקודות: 1 עד 24





פתרונות


ע' 3:




ע' 2:



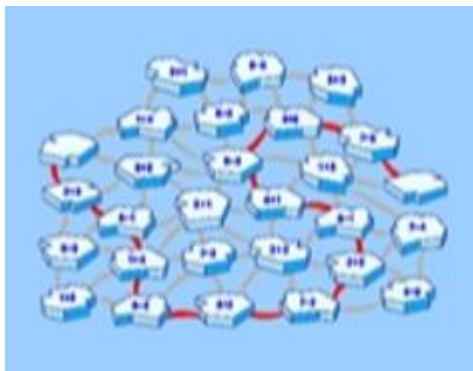
ע' 5:



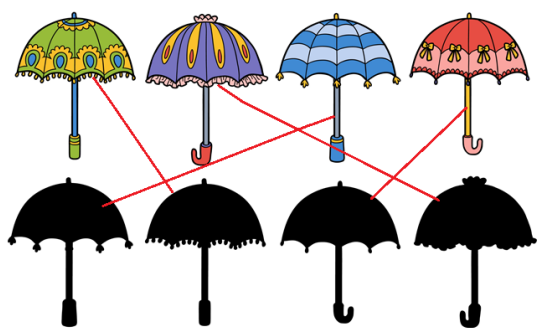
ע' 4:



ע' 7:



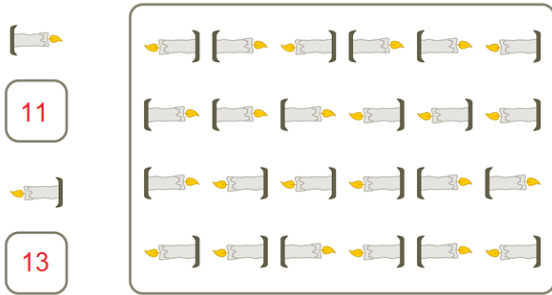
ע' 6:






המשך פתרונות

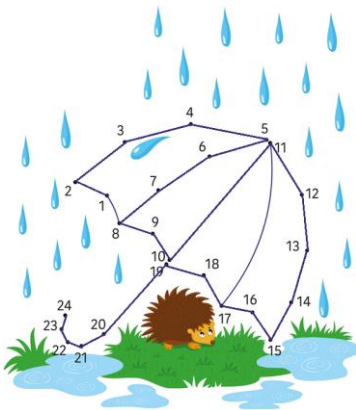
ע' 9:



ע' 12:



ע' 14:



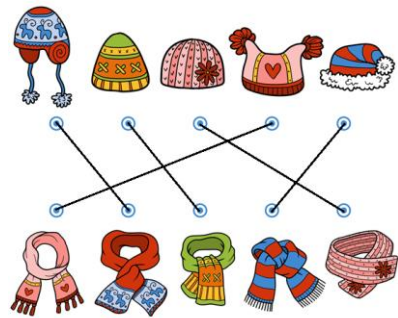
ע' 8:

החלק החסר הוא חלק 3.

ע' 10:



ע' 11:



ע' 13:



חלק מהתמונות בחוברת זו נלקחו מאתר shutter stock ברשיון

כל הזכויות שמורות לקולומבוס קידס מקבוצת מכון פיינגולד © - לימוד והכנה לבחינות www.colombus-kids.co.il לשימוש פרטי בלבד - אין לפרסם או להעלות את החוברת, במלואה או בחלקה, לאף מדיה פיסית או דיגיטאלית