



שעשועי חשיבה בנושאי חג החנוכה ועונת החורף

לתלמידי כיתה א'
חלק שני




כולל פתרונות
(לא מוכרחים להדפיס בצבע)






מתחן קו בין סימני מזג האוויר לבין הלבוש המתאים





מי משלשת הפינגווינים יצליח לקפץ למים?





תוכלו למצא עשרה הבדלים בין התמונות?






חברו בין זוגות המגפים לצלליות שלָהם.





חברו את הנקודות: 1 עד 87





עזרו לאמא דבה להגיע לדבון שלה: עליה לדרך על קרחונים שהתוצאה עליהם היא 1-10 לפי הסדר.

1 - 10

3+2

8-4

7-6

1+3

9-7

5+2

7+2

3+3

7-1

2+1

7-3

2+3

4+2

9-2

2+8

6-4

9-2

2-1

1+3

8-3

4+5

1+7

8-5

2+8


4+1

3+1

1+7



ספרו כמה מטריזות, כמה עננים וכמה טפות יש בציור



מטריזות : _____
עננים : _____
טפות : _____



התוכלו לספר כמה פובעים יש מכל סוג מבלי להתבלבל?



□ □ □ □ □ □ □ □ □ □ □ □





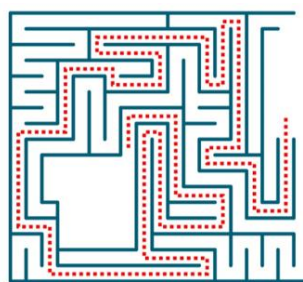
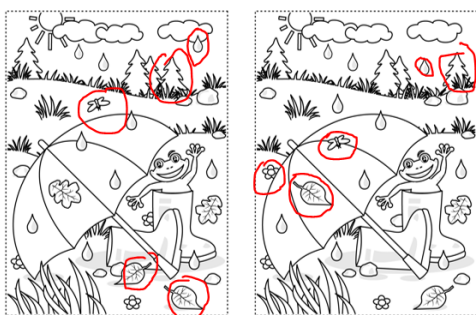
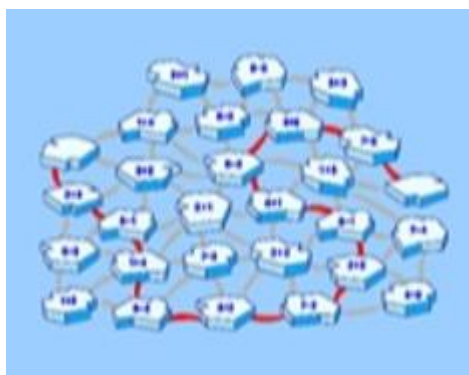
סודוקו

מהן הצורות החסרות בכל שורה?
 (אסור לחזור על אותה צורה פעמים באותה שורה
 ובאותו טור)



צבעו להנאתכם







ANSWER:

1-7,4-10,5-2,8-3,9-6.

ANSWER: 9 - 9. - 22, drops - clouds - 9, umbrellas

